

3A. Automehaničar

1. Pročitati pažljivo slijedeći tekst o hidrauličnom pogonu:

[https://hr.wikipedia.org/wiki/Hidrauli%C4%8Dki\\_pogon](https://hr.wikipedia.org/wiki/Hidrauli%C4%8Dki_pogon)

2. Dodatno pogledati animaciju o hidrauličnom pogonu:

hidraulicni sistem

<https://www.youtube.com/watch?v=zWnwXL5MstU>

3. Odgovoriti na slijedeća pitanja:

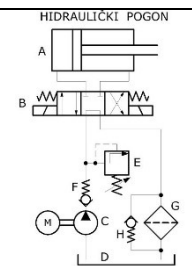
A. Dio **hidrauličkog pogona** pod C je:

<p>a) hidraulička pumpa, b) nepovratni ventil, c) filter ulja.</p>	
--	--

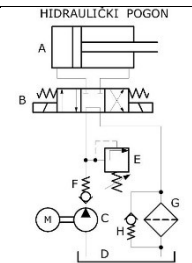
B. Dio **hidrauličkog pogona** pod G je:

<p>a) hidraulička pumpa, b) nepovratni ventil, c) filter ulja.</p>	
--	--

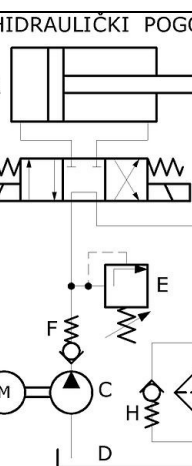
C. Dio **hidrauličkog pogona** pod E je:

<p>a) nepovratni ventil, b) sigurnosni ventil, c) hidraulički razvodnik.</p>	
--	--

D. Dio **hidrauličkog pogona** pod B je:

<p>a) nepovratni ventil, b) sigurnosni ventil, c) hidraulički razvodnik.</p>	
--	--

E. Dio **hidrauličkog pogona** pod A je:

<p>a) hidraulički cilindar, b) hidraulička pumpa, c) hidraulički razvodnik.</p>	
---	---

**Napomena:** nije potrebno slati odgovore nazad nego to treba shvatiti kao pripremu za pismeni ispit znanja koji će biti obavljen naknadno!

Nastavnik:

Marić Milenko, mag. ing. mech.